


面積的應用問題(五)


75 公分 面積 = ?

33 公分




68 公分 面積 = ?


32 公分



69 公分 面積 = ?




面積 = ?



27 公尺

面積 = ?

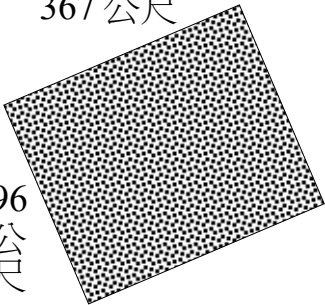
76 公分



168 公分

面積 = ?

367 公尺



96 公尺

答對
題



阿貴整理教室櫃子，已知橫排有 12 個，直排有 3 個，請問教室總共有幾個櫃子？

一副牌排成一個長方形，總共有四種花色，數字是從 1~13，請問總共有幾張牌？

一個烤盤長邊可以裝 8 片小餅乾，短邊可以裝 4 片，請問一個烤盤裝滿可以裝幾片？

一個正方形的教室，每一邊可以鋪 29 片地磚，請問整間教室鋪滿需要多少片地磚？

一個正方形拼圖，每一邊有 35 片，請問這是一份幾塊的拼圖？

一塊正方形的田地，每邊種 30 株香蕉，請問這塊地種共種了幾株香蕉？

答對
題

