



面積的應用問題(四)


18公分
面積=?
15公分




57公分
面積=?
32公分




87公分
面積=?
87公分



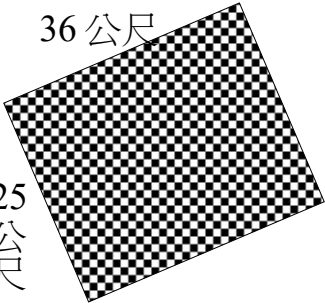
面積=?
68公尺
68公尺



面積=?
98公分
275公分



面積=?
36公尺
25公尺



答對
題



花園長有 8 公尺，寬是 3 公尺，
請問花園的面積有多大？

教室的長是 10 公尺，寬是 9 公
尺，請問面積是多少？

任卿老師把收集到的胸章排成一
個正方形，已經知道一邊有 12
個，請問她總共收集幾個？

把礦泉水裝進紙箱，長邊可以裝
6 瓶，短邊可以裝 4 瓶，共裝了
15 箱，請問共有幾瓶礦泉水？

華君練習打字，一張紙總共有 25
列，每一行有 28 個字，請問他如
果打滿三張紙，總共打幾個字？

啟仁蓋房子，一面牆的長貼 380
片瓷磚，寬貼 24 片，請問貼完整
面牆，共需要多少瓷磚？

答
對
題

